


Géographie II

007

05 Nov. 2010 14h- 17h

RWANDA NATIONAL EXAMINATIONS COUNCIL



P.O. BOX 3817 KIGALI-TEL/FAX : 586871

EXAMEN NATIONAL DE ORDINARY LEVEL 2010

EXAMEN :GEOGRAPHIE

EPREUVE II : GEOGRAPHIE ECONOMIQUE

DURÉE : 3 HEURES

INSTRUCTIONS:

L'épreuve comprend deux sections: A et B.

SECTION A: Répondez à toutes les questions. **(60 points)**

SECTION B: Répondez à quatre questions au choix. **(40 points)**

SECTION A: Répondez à toutes les questions. (60 points)

1. (a) Pourquoi est-ce que le port sec d'Isaka est-il important pour le Rwanda? **(2 points)**
(b) Donnez deux marchandises importés au Rwanda qui transitent par le port sec d'Isaka **(2 points)**
2. (a) Qu'est-ce que le remembrement des terres? **(1 point)**
(b) Identifier un facteur qui a entravé le remembrement des terres au Rwanda. **(2 points)**
3. (a) Mis à part le Rwanda, nommez deux pays membres de la COMESA. **(2 points)**
(b) Identifier deux avantages dont jouissent les pays membres de la COMESA comme résultat de sa mise en place. **(2 points)**
4. (a) Quelle est l'importance des parcs nationaux pour:
(i) l'économie du pays; **(2 points)**
(ii) la population riveraine des parcs; **(2 points)**
(iii) les touristes qui visitent les parcs. **(2 points)**
(b)(i) Nommez une attraction touristique autre que ceux trouvés dans les parcs. **(1 point)**
(ii) Quelle est la mesure qui a été prise pour améliorer l'industrie touristique au Rwanda de 2000 à 2010. **(1 point)**
5. (a) Expliquez deux facteurs qui ont favorisé l'augmentation de la population au Rwanda. **(2 points)**
(b) Identifiez:
(i) les problèmes de la surpopulation dans un pays comme le Rwanda. **(2 points)**
(ii) les mesures prises pour résoudre les problèmes de la surpopulation. **(2 points)**
6. (a) Nommez une usine importante de thé située dans la Province Ouest du Rwanda. **(1 point)**
(b) Nommez deux usines non agricoles que l'on trouve dans la Province de l'Ouest du Rwanda. **(2 points)**
(c) Pourquoi le Rwanda est-il appelé un pays à prédominance agricole? **(1 point)**
7. La pêche est une importante industrie pour les pays d'Afrique de l'Est.
(a) Donnez le plus grand problème auquel se heurte l'industrie de pêche en Afrique de l'Est. **(1 point)**
8. Donnez trois facteurs qui ont favorisé le développement de New York comme port? **(3 points)**

9. Etudiez la carte de la Région des Grands Lacs d'Amérique et répondez aux questions suivantes:

Fig. 1: Carte de la Région des Grands d'Amérique

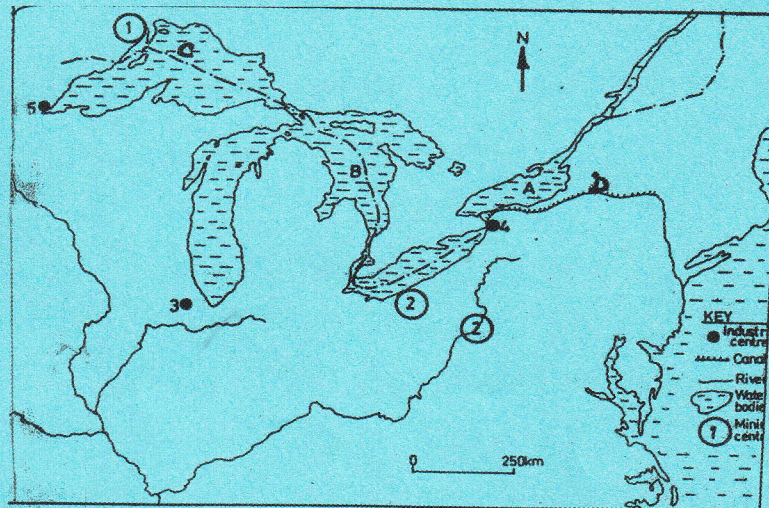


Fig. 1

- (a) Nommez:
- (i) les minéraux obtenus à partir des endroits marqués, 1 et 2. **(2 points)**
 - (ii) les centres industriels du fer et de l'acier marqués 3, 4 et 5. **(3 points)**
- (b) Décrivez les facteurs qui ont conduit au développement des industries du fer et de l'acier dans la Région des Grands Lacs. **(2 points)**
- (c) Expliquez les problèmes résultant de la concentration des industries dans la Région des Grands Lacs de l'Amérique du Nord. **(3 points)**
10. La Silicon Valley en Californie est une zone à croissance économique rapide. Identifiez trois raisons qui ont conduit au succès de l'agriculture dans cette vallée. **(3 points)**

11. Etudiez la carte de la densité de la population de Chine ci-après et répondez aux questions suivantes :

Figure 2: Carte de la densité de la population de Chine.

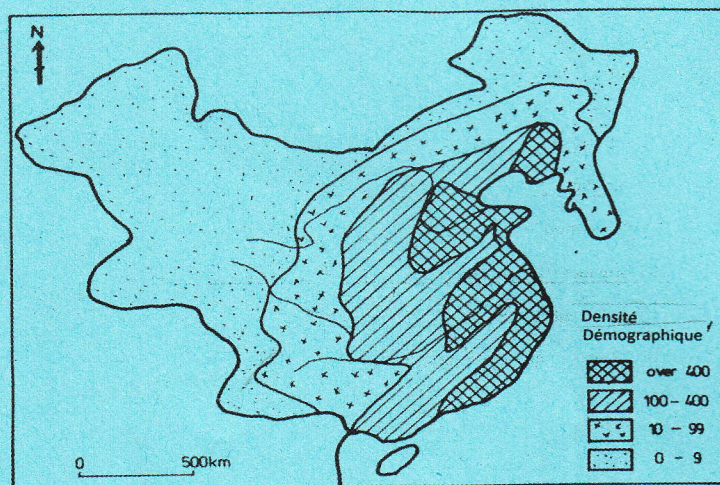


Fig.2

- a) Quels sont les facteurs qui ont influencé la distribution de la population montré sur la figure 2 ci-dessus ? **(3 points)**
- b) Pourquoi est-ce que une population nombreuse est-elle quelquefois très importante ? **(2 points)**
- c) Donnez deux désavantages de la densité élevée de la population en Chine. **(2 points)**
12. Le transport aérien joue un rôle clé dans les économies de nombreux pays.
- (a) Identifiez **trois** avantages du transport aérien par rapport aux autres formes de transport. **(3 points)**
- (b) Quels sont les désavantages du transport aérien? **(2 points)**
- (b) Identifiez deux méthodes utilisées dans la pêche continentale en Afrique de l'Est. **(2 points)**

SECTION B: Répondez à quatre questions de votre choix. (40 marks)

13. L'écotourisme au Rwanda est principalement focalisée sur la faune et la flore trouvées dans les zones protégées. Donnez et expliquez les facteurs de développement de l'écotourisme au Rwanda. **(10 points)**
14. Le café et le thé sont considérés comme étant les cultures industrielles pour le développement économique du Rwanda.
- a) Décrivez les facteurs qui ont favorisé la culture du café et du thé au Rwanda. **(4 points)**
 - b) Expliquez les avantages soit du café ou soit du thé pour la population du Rwanda. **(3 points)**
 - c) Identifiez les problèmes auxquels font face les cultivateurs de la culture mentionné au point b) ci-dessus. **(3 points)**
15. a) Décrivez trois facteurs qui ont favorisé les systèmes d'irrigation en Afrique. **(3 points)**
- b) Nommez un système d'irrigation auquel tu es familier en Afrique. **(1 point)**
 - c) Expliquez les avantages du système d'irrigation mentionné ci-dessus à la population avoisinante. **(3 points)**
 - d) Identifiez les problèmes auxquels fait face la population avoisinant le système d'irrigation mentionné ci-dessus. **(3 points)**
16. Le fleuve Rhin est localisé dans le continent européen.
- (a) Nommez trois pays traversés par le Rhin. **(3 points)**
 - (b) Nommez le pays dans lequel on trouve le complexe de l'industrie de la Ruhr. **(1 point)**
 - (c) Quels sont les avantages qui ont été apportés par la voie navigable du Rhin aux terres riveraines. **(3 points)**
 - (d) Quels sont les problèmes qui ont été causés par la voie Navigable du Rhin? **(3 points)**
17. Les Etats-Unis d'Amérique sont connus comme étant le pays le plus industrialisé dans le monde.
- a) Donnez trois raisons qui montrent le développement industriel aux Etats-Unis **(3 points)**
 - b) Identifiez quatre régions industrielles aux Etats-Unis. **(4 points)**
 - c) Nommez trois industries automobiles des Etats-Unis. **(3 points)**